

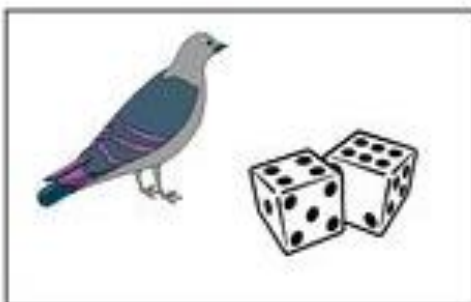


Rekenwerkblad Gewichten



1. Wat is het zwaarst? Zet daar een cirkel omheen.



2. Omcirkel wat het zwaarst is.



3. Hoeveel weegt het? Kruis het juiste antwoord aan.

Pak suiker



- 1 kilo.
- 10 kilo.
- 50 kilo.

Zak aardappelen



- 1 kilo.
- 10 kilo.
- 50 kilo.

Standbeeld



- 1 kilo.
- 10 kilo.
- 100 kilo.

Een fiets



- 5 kilo.
- 20 kilo.
- 50 kilo.

Een dobbelsteen



- Minder dan 1 kilo
- 1 kilo.
- Meer dan 1 kilo.

Een bril



- Minder dan 1 kilo
- 1 kilo.
- Meer dan 1 kilo.

4. Omcirkel dat wat zwaarder is dan 1 kilo.

