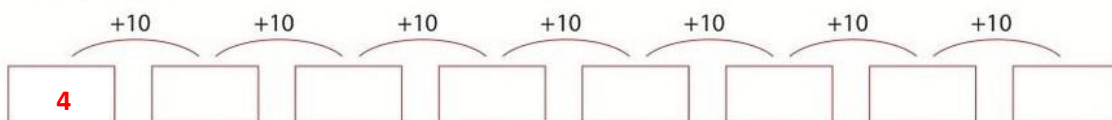


Rekenwerkblad

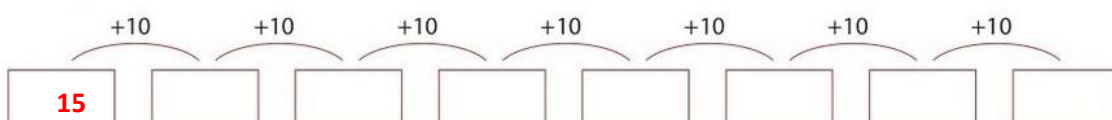


1. Maak sprongen van 10. Schrijf het juiste cijfer in de lege vakjes en maak de rijtjes af.

Start bij het getal 4



Start bij het getal 15



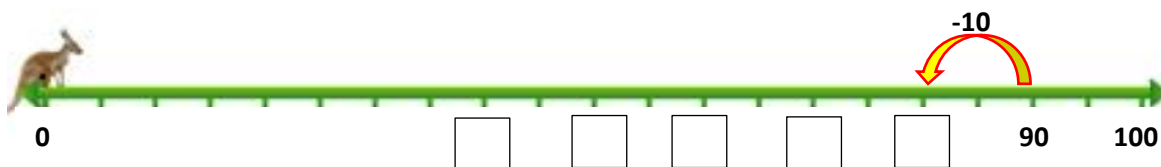
Start bij het getal 88



Start bij het getal 75



2. De kangoeroe springt met sprongen van 10 terug. Maak de getallenlijn af.



Bij welk getal eindigt de kangoeroe? Bij het getal:



Bij welk getal eindigt de kangoeroe? Vul het in op de stippellijn.

.....

3. Maak de sommen. Let op: er zijn + en – sommen.

Je mag gebruik maken van de getallenlijnen hieronder!!

$4 + 20 = \dots$

$57 - 10 = \dots$

$45 - 10 = \dots$

$14 + 30 = \dots$

$57 - 20 = \dots$

$45 - 30 = \dots$

$12 + 20 = \dots$

$29 - 10 = \dots$

$84 - 10 = \dots$

$22 + 40 = \dots$

$29 - 20 = \dots$

$84 - 40 = \dots$

$34 + 10 = \dots$

$65 - 10 = \dots$

$68 - 10 = \dots$

$34 + 50 = \dots$

$65 - 30 = \dots$

$68 - 50 = \dots$

